







Tu peux utiliser le tableau de numération.

Souviens-toi que 20 dizaines, on le met comme ça car 20 dizaines c'est 2 centaines :

c centaines	d dizaines	u unités
		
2	0	

C'est aussi 200 unités :

c centaines	d dizaines	u unités
		
2	0	0

Écris le nombre qui correspond :

Exemple : 13 dizaines : **130**

12 dizaines :

1 centaine et 7 dizaines :

25 dizaines et 4 unités :

3 centaines et 4 dizaines :

7 centaines et 2 unités :

40 dizaines :

16 dizaines et 1 unité :

6 unités, 3 dizaines et 4 centaines :

25 dizaines et 4 unités :

4 unités, 6 dizaines et 2 centaines :

7 centaines et 2 unités :

3 centaines et 4 dizaines :