

Prénom :






Date :

Domaine : mathématiques, géométrie

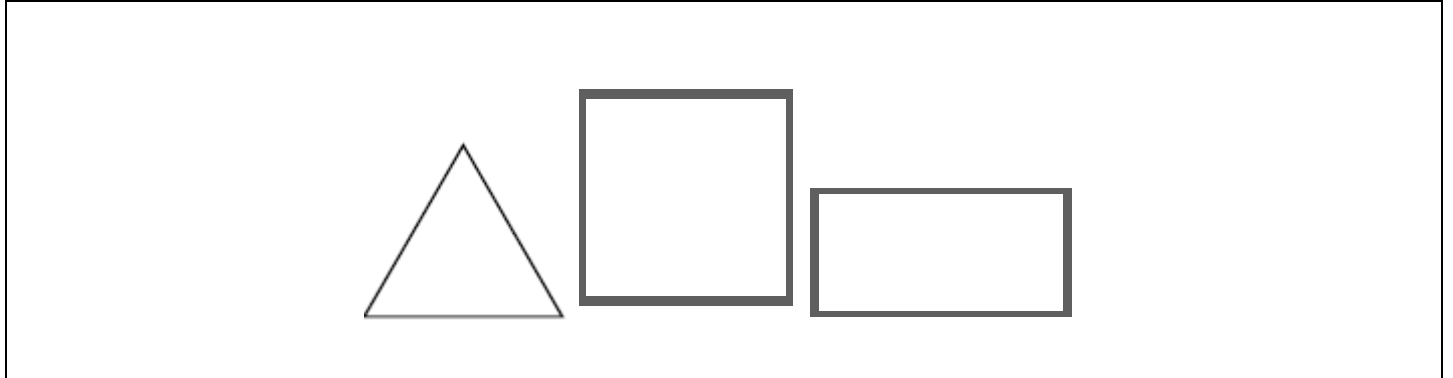
Compétences : être capable d'identifier des formes et de reproduire des figures



Exercice 1 : copie le nom des figures au bon endroit (modèles écrits dans le désordre sur ardoise)

Exercice 2 : écris dans chaque forme son nombre de côtés.



Exercice 3 : trace (à la règle) un carré en rouge, un rectangle en bleu, et un triangle en vert.

